

## AB \_\_: BÜB „Erkans Kebab“

Herr Erkan Hakan betreibt einen Kebab-Stand in der Favoritenstraße. Sein Betrieb ist ganzjährig geöffnet. Er führt freiwillig eine Doppelte Buchhaltung. Aus der GuV übernimmt Herr Hakan folgende Werte als Basis für den Betriebsüberleitungsbogen:










### Betriebsüberleitungsbogen im Jahr 20..

Aufwand/Ertrag	Betrag	Überleitung	Kosten
Lebensmitteleinsatz	16.000		
Getränkeeinsatz	14.000		
Energieverbrauch	5.000		
Mietaufwand Standplatz	6.000		
Abschreibung Stand	1.200		
Abschreibung Geschäftsausstattung	1.750		
Werbeaufwand	3.000		
Versicherungsaufwand	1.000		
Zinsaufwand	3.000		
<b>Summe Aufwand / Kosten</b>			
Erlöse	74.000		
<b>Gewinn / Betriebsergebnis</b>			

### Zusatzangaben:

- Die Lebensmittel werden im nächsten Jahr bei einem anderen Großhändler bezogen. Es wird mit einer Ersparnis von 4 % gerechnet.
- Nach dem 100jährigen Kalender wird der Sommer 20.. besonders heiß und trocken. Es wird davon ausgegangen, dass der Getränkeinsatz um 15 % steigen wird.
- Vom Energieverbrauch entfallen 70 % auf die Heizung des Standes. Der letzte Winter war relativ kalt. Im langjährigen Mittel liegen die Heizkosten um 15 % niedriger.
- Die Miete für den Standplatz wird dem neuen Index angepasst. Daraus ergibt sich eine Erhöhung von 3 %.

5. Der Anschaffungswert des Standes hat EUR 18.000,00 betragen. Die betriebsgewöhnliche Nutzungsdauer beträgt 15 Jahre. Derzeit würde ein vergleichbarer Stand EUR 21.000,00 kosten. Die tatsächliche Nutzungsdauer beträgt 10 Jahre. 
6. Die Geschäftsausstattung hat EUR 14.000,00 gekostet. Der Wiederbeschaffungswert beträgt EUR 18.000,00. Vom Finanzamt wurde eine Nutzungsdauer von 8 Jahren festgesetzt. Aufgrund der hohen Beanspruchung muss die Geschäftsausstattung jeweils nach 5 Jahren erneuert werden. 
7. Im Werbeaufwand sind die Kosten für eine Werbeaktion zu Schulschluss in der Höhe von EUR 2.000,00 enthalten. Die Aktion war ein Flop und wird deshalb nicht wiederholt. Die restlichen Werbeausgaben bleiben unverändert. 
8. Die Versicherung wird im nächsten Jahr um 6 % erhöht. 
9. Der Zinsaufwand stammt aus einem betrieblichen Darlehen. Das im Unternehmen gebundene Eigenkapital beträgt EUR 11.000,00. Der marktübliche Zinssatz beträgt 2 %. Es soll ein Risikozuschlag von 3 % berücksichtigt werden. 
10. Herr Hakan würde als unselbständig Erwerbstätiger monatlich EUR 1.600,00 verdienen (14x jährlich). Es soll ein Zuschlag von 30 % berücksichtigt werden. 
11. In den Erlösen sind Spekulationsgewinne aus einem Aktiengeschäft in der Höhe von EUR 2.000,00 enthalten. Herr Hakan rechnet damit, die Erlöse im nächsten Jahr um 10 % steigern zu können. 

### Aufgabenstellung:

- Erstellen Sie den BÜB. Runden Sie die Werte auf 10 EUR. Geben Sie jeweils an, welche Form der Überleitung vorgenommen wird.
- Ermitteln und interpretieren Sie das Betriebsergebnis.
- Wie hoch sind die Kosten für eine „Kebab + Getränk“-Kombi, wenn im letzten Jahr 20.000 Kombinationen verkauft wurden?